


Урок математики в 1 классе



Настрой на урок

**Нужно уметь
считать, чтобы ...**



Посчитай

11

17

13

19

20

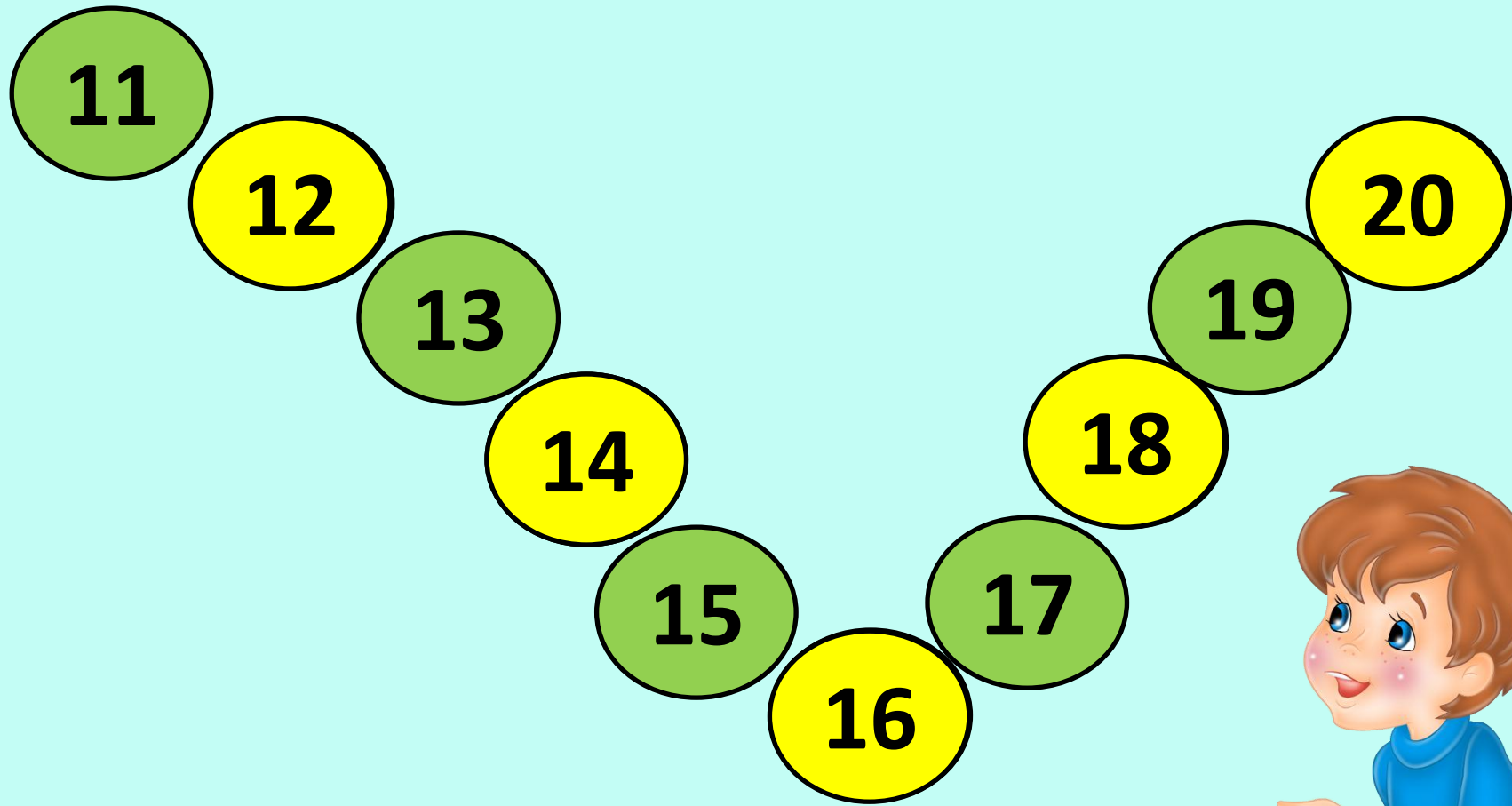
16

18

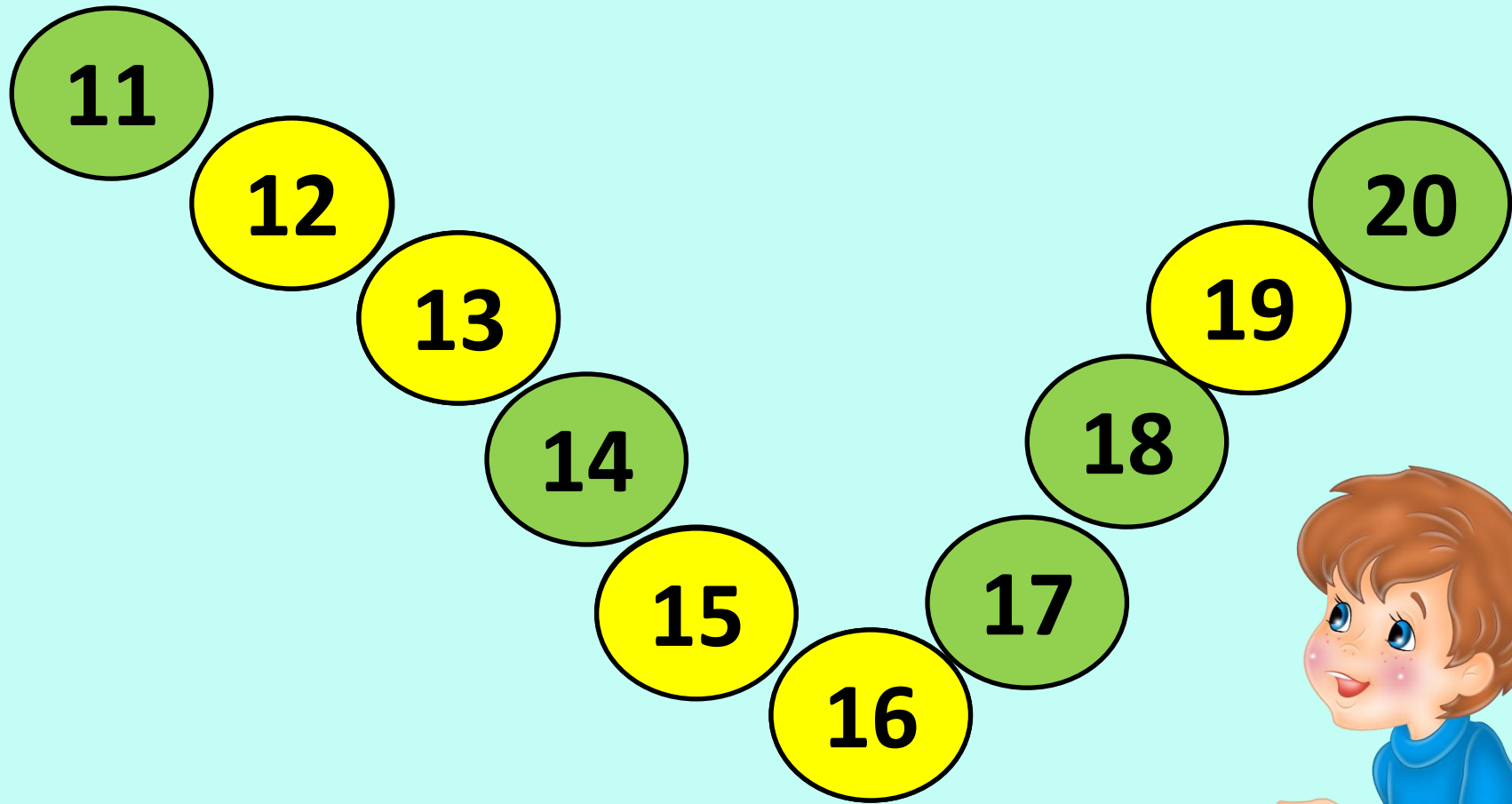
11



Назови пропущенные числа



Назови пропущенные числа



Какое число больше?

11

15

18

17

13

14



Какое число меньше?

17

15

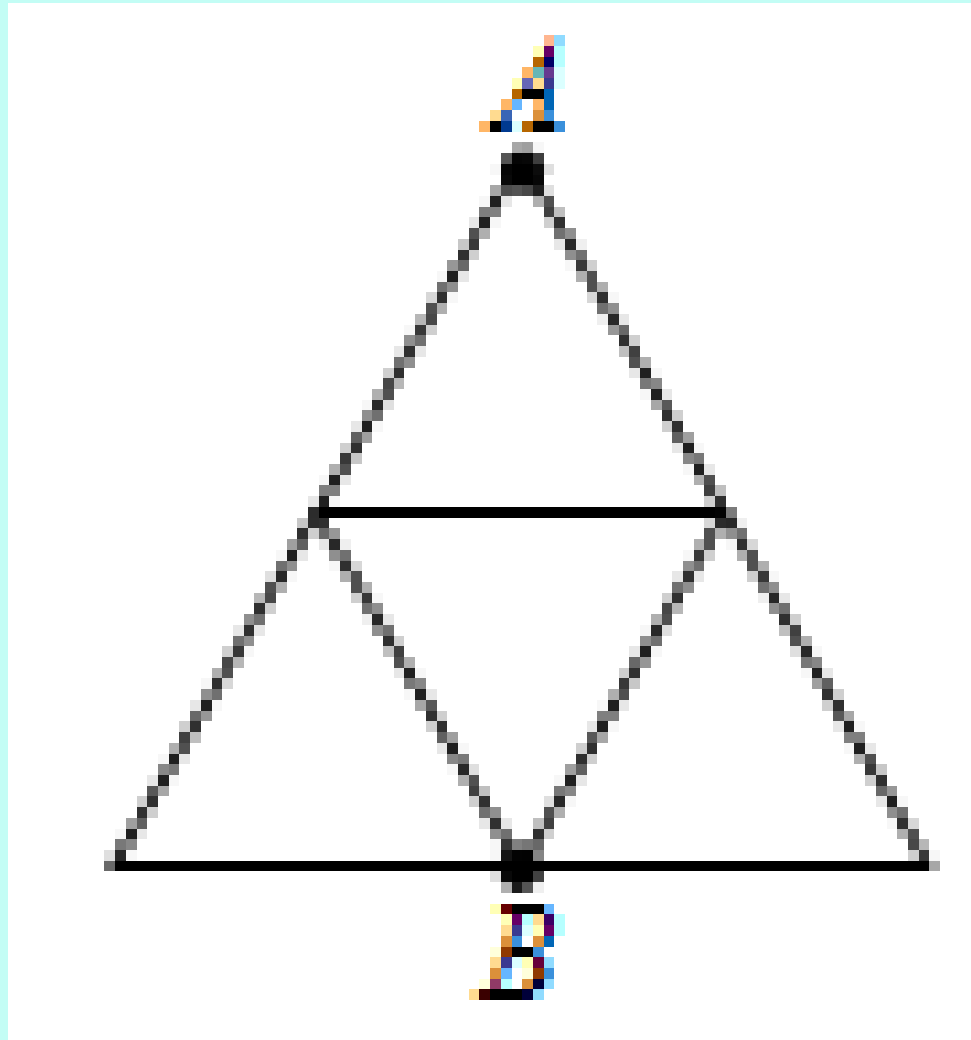
19

17

20

10





10	4		3		9	
		5		8		0

Тема урока

Счёт десятками



Счет десятками

10

20

30

40

50

60

70

80

90

100



Счет десятками

10

20

30

40

50

60

70

80


90

100



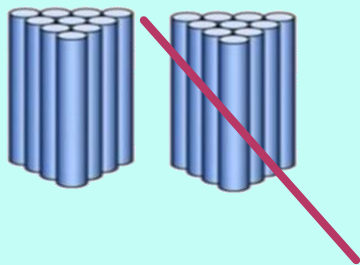
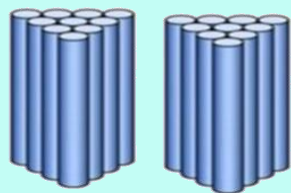
Вычисли

$$\begin{array}{ccc} 30 & 20 & 50 \\ 3 \text{ дес.} + 2 \text{ дес.} = & & 5 \text{ дес.} \end{array}$$



Вычисли

$$\overset{40}{4 \text{ дес.}} - \overset{10}{1 \text{ дес.}} = \overset{30}{3 \text{ дес.}}$$



Работа в паре

4 дес. + 3 дес.

30

6 дес. + 2 дес.

8 дес. - 5 дес.

70

7 дес. + 2 дес.

10 дес. - 7 дес.

80

9 дес. - 6 дес.

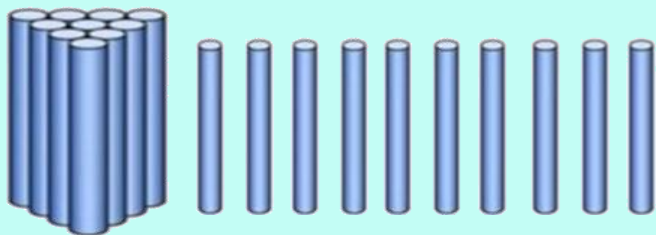
90



Сколько надо добавить?

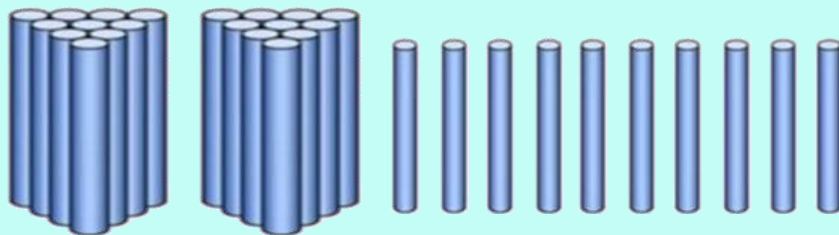
20

3



30

2



Вычисли

2 дес. 3 ед. + 6 дес. 2 ед. = 8 дес. 5 ед.

5 дес. 4 ед. + 4 дес. 5 ед. = 9 дес. 9 ед.




Вычисли

$$8 \text{ дес. } 7 \text{ ед.} - 6 \text{ дес. } 2 \text{ ед.} = 2 \text{ дес. } 5 \text{ ед.}$$

$$7 \text{ дес. } 4 \text{ ед.} - 4 \text{ дес. } 3 \text{ ед.} = 3 \text{ дес. } 1 \text{ ед.}$$



Самооценка



Итог урока

Десятки складываются, как ...

Десятки вычитаются, как ...

