



Наиболее сложные задания в ОГЭ-2023
по географии: разбор, решения и советы.

Учитель географии МАОУ СОШ № 104,
Шадрина Вера Анатольевна

Задание 26

- Все задания 26 решаются с помощью отраслевых карт атласа 9 класса:
 - 1) По тексту задания определить отрасль о которой идет речь
 - 2) В содержании на первом форзаце атласа найти страницу нужной карты
 - 3) В условных знаках найти обозначение данной отрасли
 - 4) На карте найти города или районы, предложенные в задании
 - 5) Города или районы обозначенные нужным цветом являются верными ответами на задание

Задание 26

СОДЕРЖАНИЕ

ХОЗЯЙСТВО РОССИИ	
Административная карта России	2-3
Физическая карта	4-5
Размещение населения	6-7
Народы	8-9
Топливая промышленность	10-11
Электроэнергетика	12
Чёрная и цветная металлургия	13
Машиностроение	14
Химическая промышленность	15
Лесная промышленность	16
Агроклиматические условия	17
Зерновые культуры	18
Технические культуры	18
Животноводство	19
Пищевая промышленность	20
Лёгкая промышленность	20
Железнодорожный транспорт	21
Автомобильный и воздушный транспорт	22
Водный транспорт	23
Экономическая карта	24-25
Экономическое районирование	26
Природные ресурсы севера	27
Оборонно-промышленный комплекс	28
Экологические проблемы	29
РЕГИОНЫ РОССИИ	
ЕВРОПЕЙСКИЙ СЕВЕР И СЕВЕРО-ЗАПАД РОССИИ	
Население и хозяйство	30
Культурное наследие	31
ЦЕНТРАЛЬНАЯ РОССИЯ	
Население и хозяйство	32
Культурное наследие	33
ПОВОЛЖЬЕ	
Население и хозяйство	34
Культурное наследие	35
ЕВРОПЕЙСКИЙ ЮГ	
Население и хозяйство	36
Культурное наследие	37
УРАЛ	
Население и хозяйство	38-39
Культурное наследие	40
ЗАПАДНАЯ СИБИРЬ	
Население и хозяйство	41
Культурное наследие	42
ВОСТОЧНАЯ СИБИРЬ И ДАЛЬНИЙ ВОСТОК	
Культурное наследие	43
Население и хозяйство	44-45
РОССИЯ В МИРЕ	
Внешняя торговля России	46
Россия в системе международных отношений	47
Условные знаки	48

Пример: Какие два из перечисленных городов России являются крупными центрами автомобилестроения? Запишите в ответ цифры, под которыми указаны эти города.

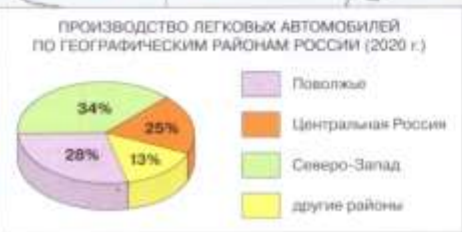

Автомобилестроение является отраслью машиностроения. Находим в первом разделе содержания машиностроение, напротив которого написано 14.

Открываем страницу 14 в атласе

Задание 26

МАШИНОСТРОЕНИЕ

Масштаб 1:30 000 000



14

ХОЗЯЙСТВО РОССИИ

Какие два из перечисленных городов России являются крупными центрами автомобилестроения? Запишите в ответ цифры, под которыми указаны эти города.

- 1) Архангельск
- 2) Тамбов
- 3) Тольятти
- 4) Череповец
- 5) Нижний Новгород

Ответ: 35

Задание 26

СОДЕРЖАНИЕ

ХОЗЯЙСТВО РОССИИ

Административная карта России	2-3
Физическая карта	4-5
Размещение населения	6-7
Народы	8-9
Топливая промышленность	10-11
Электроэнергетика	12
Чёрная и цветная металлургия	13
Машиностроение	14
Химическая промышленность	15
Лесная промышленность	16
Агроклиматические условия	17
Зерновые культуры	18
Технические культуры	18
Животноводство	19
Пищевая промышленность	20
Лёгкая промышленность	20
Железнодорожный транспорт	21
Автомобильный и воздушный транспорт	22
Водный транспорт	23
Экономическая карта	24-25
Экономическое районирование	26
Природные ресурсы севера	27
Оборонно-промышленный комплекс	28
Экологические проблемы	29

РЕГИОНЫ РОССИИ

ЕВРОПЕЙСКИЙ СЕВЕР И СЕВЕРО-ЗАПАД РОССИИ

Население и хозяйство	30
Культурное наследие	31

ЦЕНТРАЛЬНАЯ РОССИЯ

Население и хозяйство	32
Культурное наследие	33

ПОВОЛЖЬЕ

Население и хозяйство	34
Культурное наследие	35

ЕВРОПЕЙСКИЙ ЮГ

Население и хозяйство	36
Культурное наследие	37

УРАЛ

Население и хозяйство	38-39
Культурное наследие	40

ЗАПАДНАЯ СИБИРЬ

Население и хозяйство	41
Культурное наследие	42

ВОСТОЧНАЯ СИБИРЬ И ДАЛЬНИЙ ВОСТОК

Культурное наследие	43
Население и хозяйство	44-45

РОССИЯ В МИРЕ

Внешняя торговля России	46
Россия в системе международных отношений	47
Условные знаки	48

В каких двух из перечисленных регионов России агроклиматические условия наиболее благоприятны для выращивания пшеницы? Запишите в ответ цифры, под которыми указаны эти регионы.

Пшеница относится к зерновым культурам

Задание 26



В каких двух из перечисленных регионов России агроклиматические условия наиболее благоприятны для выращивания пшеницы? Запишите в ответ цифры, под которыми указаны эти регионы.

- 1) Ставропольский край
- 2) Республика Карелия
- 3) Краснодарский край
- 4) Смоленская область
- 5) Республика Коми

Для решения данного задания необходимо ещё открыть атлас 8 класса на страницах 6 – 7 «Федеративное устройство» и сопоставить карты.

Ответ: 13



Задание 26

ЭЛЕКТРОЭНЕРГЕТИКА

Масштаб 1:30 000 000





Выберите из перечисленных электростанций ГЭС. Нужно выбрать два варианта ответа.

- 1) Балаковская
- 2) Братская
- 3) Ленинградская
- 4) Усть-Илимская
- 5) Сургутская

Ответ: 25

Задание 30

- В задании 30 надо определить регион России или страну по краткому описанию.
- 1) Для определения региона России используются различные карты атласов 8 и 9 класса.
- 2) Для определения страны используются различные карты атласа 7 класса.



Задание 30

Этот автономный округ находится в азиатской части страны. Он омывается водами одного из морей Северного Ледовитого океана. На территории округа находится устье одной из наиболее протяженных рек России. Большую часть территории округа занимает тундра. Основное природное богатство — природный газ.

Ответ: Ямало-Ненецкий АО.



Задание 30

АДМИНИСТРАТИВНАЯ КАРТА РОССИИ



Республика расположена в азиатской части страны. На юге граница совпадает с государственной границей Российской Федерации. Республика богата полезными ископаемыми: здесь имеются крупные залежи свинцово-цинковых, молибденовых, вольфрамовых, урановых руд, а также месторождения угля и многих других полезных ископаемых. На территории Республики находится около 60% береговой линии самого глубокого пресноводного озера в мире.

Ответ: Республика Бурятия

Задание 30

2 ХОЗЯЙСТВО РОССИИ



3



Эта область расположена в европейской части страны и граничит с зарубежными странами. Большая часть ее территории расположена за полярным кругом. Большое значение имеет наличие на ее территории железных руд и руд цветных металлов. На территории области работает крупная АЭС.

Ответ: Мурманская обл.

Задание 30

ПОЛИТИЧЕСКАЯ КАРТА МИРА

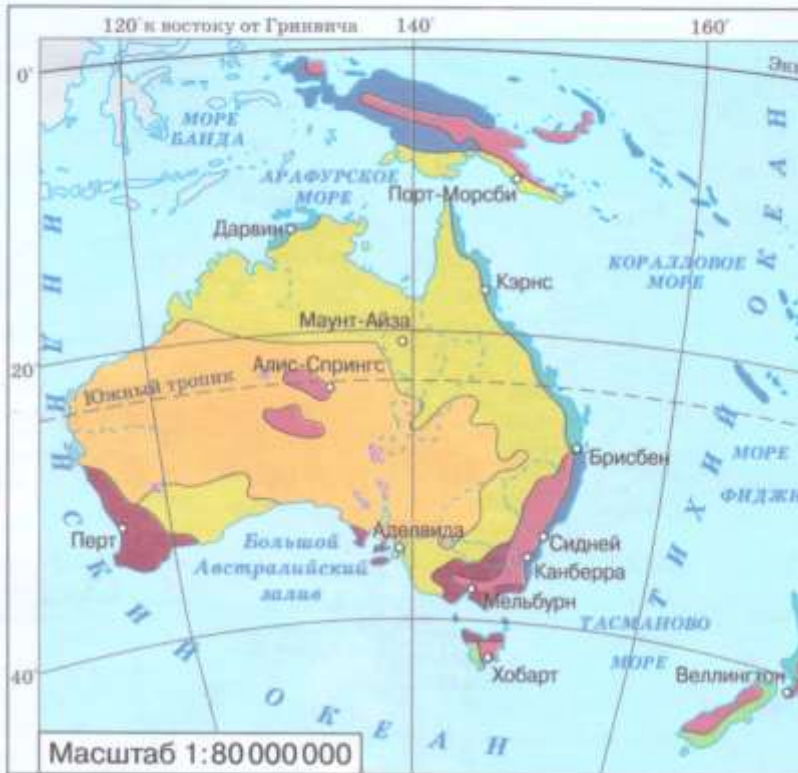


Территория этой страны пересекается Южным тропиком и омывается водами двух океанов. Страна не имеет сухопутных границ с другими государствами. Большая часть территории находится в природных зонах саванн, полупустынь и пустынь. Показатель «плотность населения» один из самых низких в мире.

Ответ: Австралия

Задание 30

ПРИРОДНЫЕ ЗОНЫ



ПРИРОДНЫЕ ЗОНЫ

- | | |
|--|----------------------------|
| постоянно влажных лесов | саванн и редколесий |
| переменнно-влажных (в том числе муссонных) лесов | полупустынь и пусты |
| жестколистных вечнозелёных лесов и кустарников | смешанных лесов |
| | Области высотной поясности |

НАРОДЫ. ПЛОТНОСТЬ НАСЕЛЕНИЯ



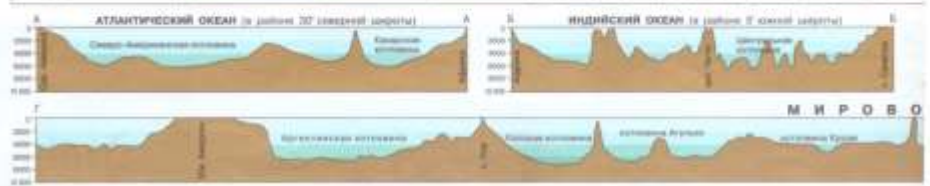
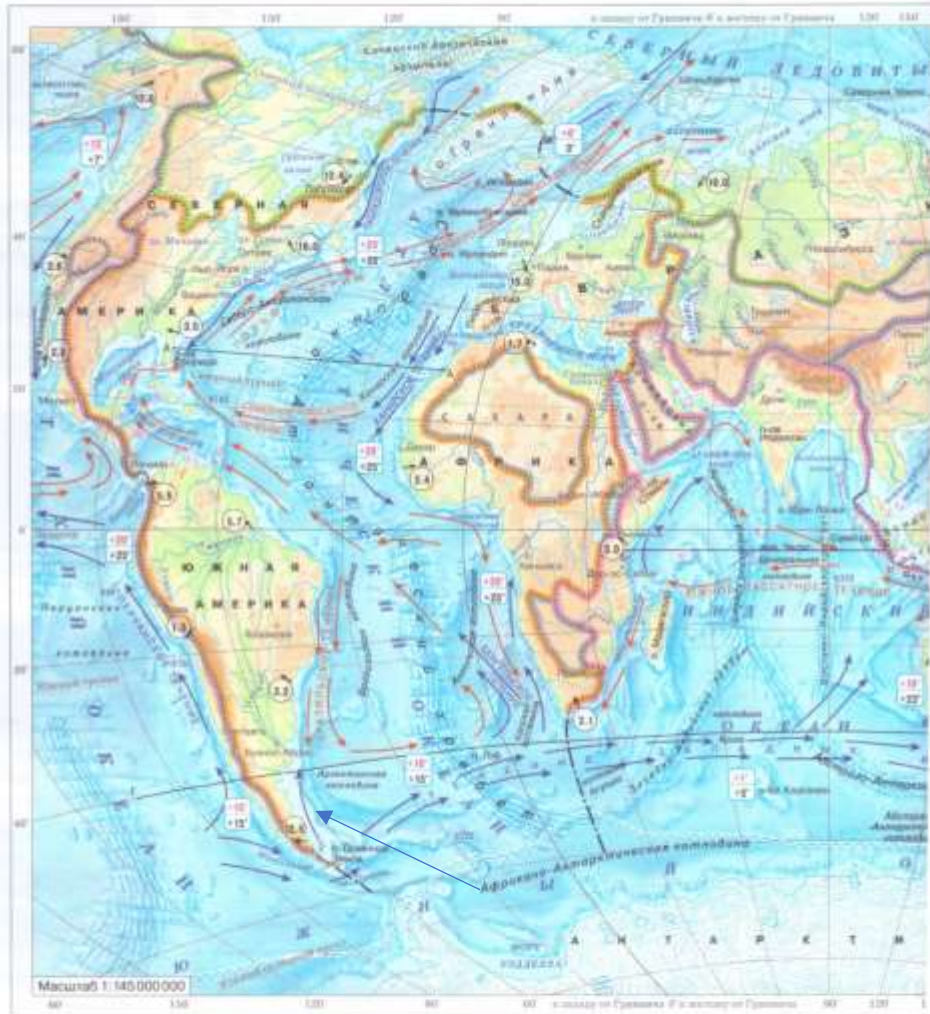
Задание 30

ПОЛИТИЧЕСКАЯ КАРТА МИРА



Эта страна расположена в Южном полушарии и имеет выход к Атлантическому океану. Ее территория вытянута в меридиональном направлении более чем на 3,7 тыс. км и поэтому располагается в трех климатических поясах: тропическом, субтропическом и умеренном. Вдоль ее побережья проходит холодное океаническое течение. Одно из основных природных богатств — плодородные почвы субтропических степей. Эта природная зона здесь называется пампой.

МИРОВОЙ ОКЕАН



ПРИРОДНЫЕ ЗОНЫ СУШИ

